

# Legotårn


Lars og Line bygger legotårn.

De teller hvor mange klosser de har brukt.

- Mitt tårn er 12 klosser høyt, sier Lars.
- Mitt tårn er 9 klosser høyt, sier Line.

Hvor mange færre klosser har Line brukt enn Lars?


Finne flere ulike måter å tenke på for å finne svaret.



Lars

Line

# Legotårn



Lars

Line

Lars og Line bygger legotårn.

De teller hvor mange klosser de har brukt.

- Mitt tårn er 20 klosser høyt, sier Lars.

- Mitt tårn er 16 klosser høyt, sier Line.

Hvor mange færre klosser har Line brukt enn Lars?

**Finn flere ulike måter å tenke på for å finne svaret.**

# Legotårn


Lars og Line bygger legotårn.

De teller hvor mange klosser de har brukt.

- Mitt tårn er 22 klosser høyt, sier Lars.
- Mitt tårn er 17 klosser høyt, sier Line.

Hvor mange færre klosser har Line brukt enn Lars?

Finne flere ulike måter å tenke på for å finne svaret.



Lars

Line