

Legotårn


Lars og Line byggjer legotårn.

Dei tel kor mange klossar dei har brukt.

- Mitt tårn er 12 klosser høgt, seier Lars.
- Mitt tårn er 9 klosser høgt, seier Line.

Kor mange færre klossar har Line brukt enn Lars?


Finn fleire ulike måtar å tenkje på for å kome fram til svaret.



Lars

Line

Legotårn



Lars

Line

Lars og Line byggjer legotårn.

Dei tel kor mange klossar dei har brukt.

- Mitt tårn er 20 klosser høgt, seier Lars.
- Mitt tårn er 16 klosser høgt, seier Line.

Kor mange færre klossar har Line brukt enn Lars?

Finn fleire ulike måtar å tenkje på for å kome fram til svaret.

Legotårn


Lars og Line byggjer legotårn.

Dei tel kor mange klossar dei har brukt.

- Mitt tårn er 22 klossar høgt, seier Lars.
- Mitt tårn er 17 klosser høgt, seier Line.

Kor mange færre klossar har Line brukt enn Lars?

Finn fleire ulike måtar å tenkje på for å kome fram til svaret.



Lars

Line