

Dagens tall

Skriv dagens tall her:

Plassverdi

Hundrere	Tiere	Enere
----------	-------	-------

Utvidet form

++

Partall og oddetall

Dagens tall er et partall / et oddetall (sett ring).

Addisjon og subtraksjon med hundrere, tiere og enere

$_____ + 1 = _____$

$_____ + 10 = _____$

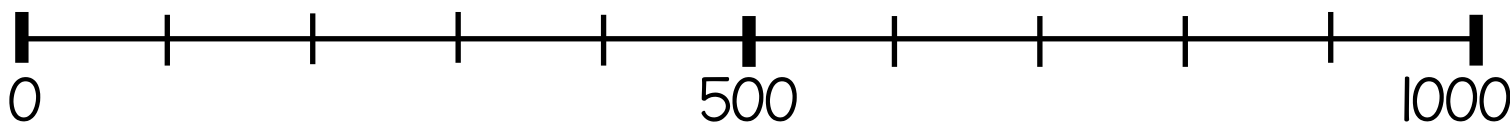
$_____ + 100 = _____$

$_____ - 1 = _____$

$_____ - 10 = _____$

$_____ - 100 = _____$

Plasser dagens tall på tallinja



Større, mindre og lik verdi

$$\square > \underline{\hspace{2cm}} \quad \square = \underline{\hspace{2cm}}$$

$$\square < \underline{\hspace{2cm}}$$

Rekketelling

Tell videre med 1 og 1:

$$\square \quad \underline{\hspace{2cm}} \quad \underline{\hspace{2cm}} \quad \underline{\hspace{2cm}} \quad \underline{\hspace{2cm}} \quad \underline{\hspace{2cm}}$$

Tell nedover med 1 og 1:

$$\square \quad \underline{\hspace{2cm}} \quad \underline{\hspace{2cm}} \quad \underline{\hspace{2cm}} \quad \underline{\hspace{2cm}} \quad \underline{\hspace{2cm}}$$

Mengde

Tegn mengden til dagens tall ved å bruke hundrere, tiere og enere.

Dagens tall

Skriv dagens tall her:

Plassverdi

Hundrere	Tiere	Enere
----------	-------	-------

Utvidet form

<input style="width: 50px; height: 50px;" type="text"/>	+	<input style="width: 50px; height: 50px;" type="text"/>	+	<input style="width: 50px; height: 50px;" type="text"/>
---	---	---	---	---

Partall og oddetall

Dagens tall er et partall / et oddetall (sett ring).

Addisjon og subtraksjon med hundrere, tiere og enere

$_____ + 2 = _____$

$_____ + 20 = _____$

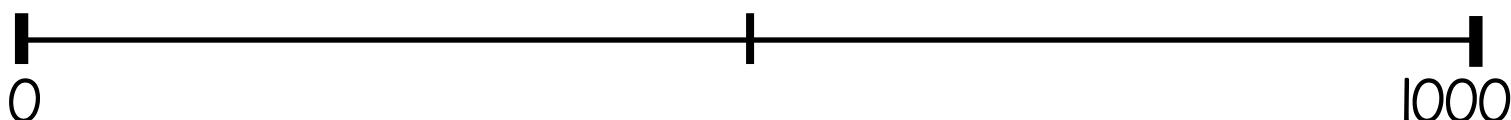
$_____ + 200 = _____$

$_____ - 2 = _____$

$_____ - 20 = _____$

$_____ - 200 = _____$

Plasser dagens tall på tallinja



Større, mindre og lik verdi

$$\square > \underline{\quad} + \underline{\quad}$$

$$\square < \underline{\quad} + \underline{\quad}$$

Rekketelling

Tell videre med 2 og 2:

$$\square \quad \underline{\quad} \quad \underline{\quad} \quad \underline{\quad} \quad \underline{\quad} \quad \underline{\quad}$$

Tell nedover med 2 og 2:

$$\square \quad \underline{\quad} \quad \underline{\quad} \quad \underline{\quad} \quad \underline{\quad} \quad \underline{\quad}$$

Regnestykker

Lag regnestykker der svaret blir dagens tall:

Dagens tall

Skriv dagens tall her:

Plassverdi

Hundrere	Tiere	Enere
----------	-------	-------

Utvidet form

<input style="width: 50px; height: 50px;" type="text"/>	+	<input style="width: 50px; height: 50px;" type="text"/>	+	<input style="width: 50px; height: 50px;" type="text"/>
---	---	---	---	---

Partall og oddetall

Dagens tall er et partall / et oddetall (sett ring).

Addisjon og subtraksjon med hundrere, tiere og enere

$_____ + 3 = _____$

$_____ + 30 = _____$

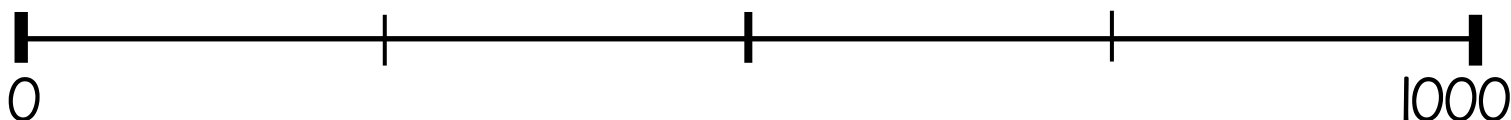
$_____ + 300 = _____$

$_____ - 3 = _____$

$_____ - 30 = _____$

$_____ - 300 = _____$

Plasser dagens tall på tallinja



Større, mindre og lik verdi

$>$ _____ — _____

$<$ _____ — _____

Rekketelling

Tell videre med 3 og 3:

_____ — _____ — _____ — _____ — _____

Tell nedover med 3 og 3:

_____ — _____ — _____ — _____ — _____

Regnestykker

Lag regnestykker der svaret blir dagens tall:

Dagens tall

Skriv dagens tall her:

Plassverdi

Hundrere	Tiere	Enere
----------	-------	-------

Utvidet form

++

Partall og oddetall

Dagens tall er et partall / et oddetall (sett ring).

Addisjon og subtraksjon med hundrere, tiere og enere

$_____ + 4 = _____$

$_____ + 40 = _____$

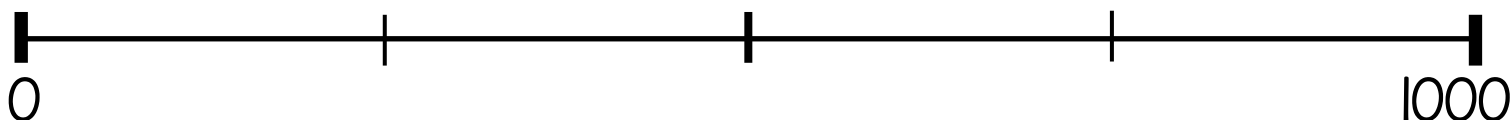
$_____ + 400 = _____$

$_____ - 4 = _____$

$_____ - 40 = _____$

$_____ - 400 = _____$

Plasser dagens tall på tallinja



Større, mindre og lik verdi

_____ — _____ >

_____ — _____ <

Rekketelling

Tell videre med 4 og 4:

Tell nedover med 4 og 4:

Regnestykker

Lag regnestykker der svaret blir dagens tall:

Dagens tall

Skriv dagens tall her:

Plassverdi

Hundrere	Tiere	Enere

Utvidet form

	+		+	
--	---	--	---	--

Partall og oddetall

Dagens tall er et partall / et oddetall (sett ring).

Addisjon og subtraksjon med hundrere, tiere og enere

$_____ + 7 = _____$

$_____ + 70 = _____$

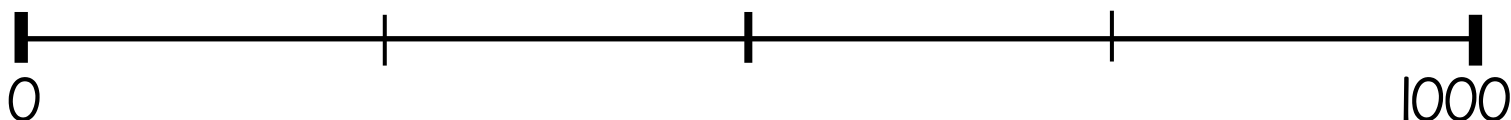
$_____ + 700 = _____$

$_____ - 7 = _____$

$_____ - 70 = _____$

$_____ - 700 = _____$

Plasser dagens tall på tallinja



Dobling og halvering

Det dobbelte av dagens tall er:

Halvparten av dagens tall er:

Rekketelling

Tell videre med 7 og 7:

<input type="text"/>	_____	_____	_____	_____	_____
----------------------	-------	-------	-------	-------	-------

Tell nedover med 7 og 7:

<input type="text"/>	_____	_____	_____	_____	_____
----------------------	-------	-------	-------	-------	-------

Regnestykker

Lag regnestykker der svaret blir dagens tall: