

Kven får talet med minst verdi?




Spel saman to og to. De treng tre terningar.

Byt på å kaste terningane. Lag eit tall med lavast mogleg verdi.

Kva for eit siffer skal vise hundrarar? Kva for eit siffer skal vise tiarar?

Kva for eit siffer skal vise einarar?

TIPS: Verdien til sifferet vert bestemt av plassen sifferet står på!

Hundrere 	Tiere 	Enere 	Tall

Den som fekk talet med lavast verdi var:



Hvem får tallet med størst verdi?




Spel saman to og to. De treng tre terningar.

Byt på å kaste terningane. Lag eit tall med lavast mogleg verdi.

Kva for eit siffer skal vise hundrarar? Kva for eit siffer skal vise tiarar?

Kva for eit siffer skal vise einarar?

TIPS: Verdien til sifferet vert bestemt av plassen sifferet står på!

Hundrere 	Tiere 	Enere 	Tall

Den som fekk talet med størst verdi var:

