

Dagens tall

Skriv dagens tall her:

Plassverdi

| | |
|-------|-------|
| Tiere | Enere |
|-------|-------|

Utvidet form

| | | |
|--|---|--|
| | + | |
|--|---|--|

Partall og oddetall

Dagens tall er et partall / et oddetall (sett ring).

Addisjon og subtraksjon

$_____ + 1 = _____$

$_____ + 2 = _____$

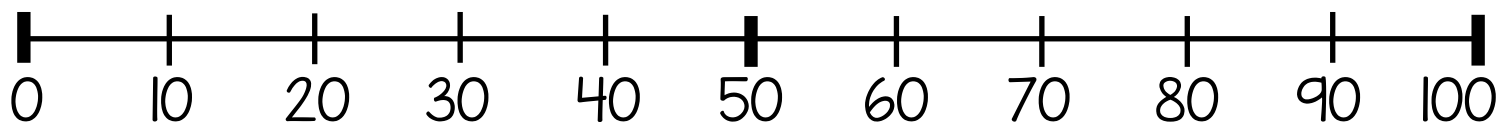
$_____ + 3 = _____$

$_____ - 1 = _____$

$_____ - 2 = _____$

$_____ - 3 = _____$

Plasser dagens tall på tallinja



Hundrernet

Fargelegg dagens tall.

| | | | | | | | | | |
|----|----|----|----|----|----|----|----|----|-----|
| 1 | 2 | 3 | 4 | 5 | 6 | 7 | 8 | 9 | 10 |
| 11 | 12 | 13 | 14 | 15 | 16 | 17 | 18 | 19 | 20 |
| 21 | 22 | 23 | 24 | 25 | 26 | 27 | 28 | 29 | 30 |
| 31 | 32 | 33 | 34 | 35 | 36 | 37 | 38 | 39 | 40 |
| 41 | 42 | 43 | 44 | 45 | 46 | 47 | 48 | 49 | 50 |
| 51 | 52 | 53 | 54 | 55 | 56 | 57 | 58 | 59 | 60 |
| 61 | 62 | 63 | 64 | 65 | 66 | 67 | 68 | 69 | 70 |
| 71 | 72 | 73 | 74 | 75 | 76 | 77 | 78 | 79 | 80 |
| 81 | 82 | 83 | 84 | 85 | 86 | 87 | 88 | 89 | 90 |
| 91 | 92 | 93 | 94 | 95 | 96 | 97 | 98 | 99 | 100 |

Rekketelling

Tell videre med 1 og 1:

Tell nedover med 1 og 1:

Mengde

Tegn mengden til dagens tall.

Dagens tall

Skriv dagens tall her:

Plassverdi

| | |
|-------|-------|
| Tiere | Enere |
|-------|-------|

Utvidet form

| | | |
|---|---|---|
| <div style="border: 1px solid black; width: 40px; height: 40px;"></div> | + | <div style="border: 1px solid black; width: 40px; height: 40px;"></div> |
|---|---|---|

Partall og oddetall

Dagens tall er et partall / et oddetall (sett ring).

Addisjon og subtraksjon med hundrere, tiere og enere

$_____ + 1 = _____$

$_____ + 2 = _____$

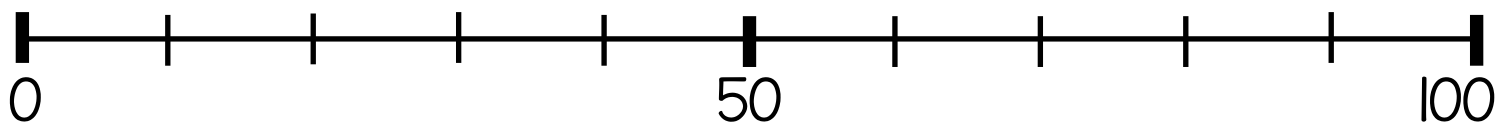
$_____ + 10 = _____$

$_____ - 1 = _____$

$_____ - 2 = _____$

$_____ - 10 = _____$

Plasser dagens tall på tallinja



Større, mindre og lik verdi

$$\square > \underline{\hspace{2cm}} \quad \square = \underline{\hspace{2cm}}$$

$$\square < \underline{\hspace{2cm}}$$

Rekketelling

Tell videre med 2 og 2:

$$\square \quad \underline{\hspace{2cm}} \quad \underline{\hspace{2cm}} \quad \underline{\hspace{2cm}} \quad \underline{\hspace{2cm}} \quad \underline{\hspace{2cm}}$$

Tell nedover med 2 og 2:

$$\square \quad \underline{\hspace{2cm}} \quad \underline{\hspace{2cm}} \quad \underline{\hspace{2cm}} \quad \underline{\hspace{2cm}} \quad \underline{\hspace{2cm}}$$

Mengde

Tegn mengden til dagens tall.

Dagens tall

Skriv dagens tall her:

Plassverdi

| | |
|-------|-------|
| Tiere | Enere |
|-------|-------|

Utvidet form

| | | |
|--|---|--|
| <div style="border: 1px solid black; width: 40px; height: 40px; display: inline-block;"></div> | + | <div style="border: 1px solid black; width: 40px; height: 40px; display: inline-block;"></div> |
|--|---|--|

Partall og oddetall

Dagens tall er et partall / et oddetall (sett ring).

Addisjon og subtraksjon

$_____ + 1 = _____$

$_____ + 3 = _____$

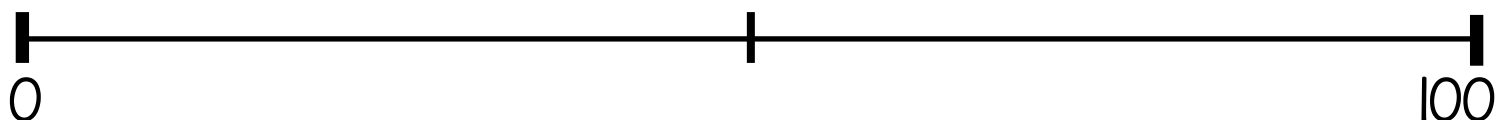
$_____ + 10 = _____$

$_____ - 1 = _____$

$_____ - 3 = _____$

$_____ - 10 = _____$

Plasser dagens tall på tallinja



Dobling og halvering

Det dobbelte av dagens tall er:

Halvparten av dagens tall er:

Rekketelling

Tell videre med 3 og 3:

| | | | | | |
|----------------------|-------|-------|-------|-------|-------|
| <input type="text"/> | _____ | _____ | _____ | _____ | _____ |
|----------------------|-------|-------|-------|-------|-------|

Tell nedover med 3 og 3:

| | | | | | |
|----------------------|-------|-------|-------|-------|-------|
| <input type="text"/> | _____ | _____ | _____ | _____ | _____ |
|----------------------|-------|-------|-------|-------|-------|

Regnestykker

Lag regnestykker der svaret blir dagens tall:

Dagens tall

Skriv dagens tall her:

Plassverdi

| | |
|-------|-------|
| Tiere | Enere |
|-------|-------|

Utvidet form

| | | |
|--|---|--|
| | + | |
|--|---|--|

Partall og oddetall

Dagens tall er et partall / et oddetall (sett ring).

Addisjon og subtraksjon med hundrere, tiere og enere

$_____ + 1 = _____$

$_____ + 4 = _____$


$_____ + 10 = _____$

$_____ - 1 = _____$

$_____ - 4 = _____$

$_____ - 10 = _____$

Plasser dagens tall på tallinja



Dobling og halvering

Det dobbelte av dagens tall er:

Halvparten av dagens tall er:

Rekketelling

Tell videre med 4 og 4:

| | | | | | |
|----------------------|-------|-------|-------|-------|-------|
| <input type="text"/> | _____ | _____ | _____ | _____ | _____ |
|----------------------|-------|-------|-------|-------|-------|

Tell nedover med 4 og 4:

| | | | | | |
|----------------------|-------|-------|-------|-------|-------|
| <input type="text"/> | _____ | _____ | _____ | _____ | _____ |
|----------------------|-------|-------|-------|-------|-------|

Regnestykker

Lag regnestykker der svaret blir dagens tall:

Dagens tall

Skriv dagens tall her:

Plassverdi

| | |
|-------|-------|
| Tiere | Enere |
|-------|-------|

Utvidet form

| | | |
|---|---|---|
| <input style="width: 50px; height: 50px;" type="text"/> | + | <input style="width: 50px; height: 50px;" type="text"/> |
|---|---|---|

Partall og oddetall

Dagens tall er et partall / et oddetall (sett ring).

Addisjon og subtraksjon med hundrere, tiere og enere

$_____ + 1 = _____$

$_____ + 5 = _____$

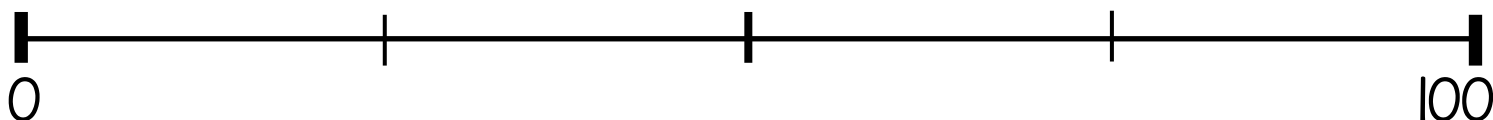
$_____ + 10 = _____$

$_____ - 1 = _____$

$_____ - 5 = _____$

$_____ - 10 = _____$

Plasser dagens tall på tallinja



Dobling og halvering

Det dobbelte av dagens tall er:

Halvparten av dagens tall er:

Rekketelling

Tell videre med 5 og 5:

| | | | | | |
|----------------------|-------|-------|-------|-------|-------|
| <input type="text"/> | _____ | _____ | _____ | _____ | _____ |
|----------------------|-------|-------|-------|-------|-------|

Tell nedover med 5 og 5:

| | | | | | |
|----------------------|-------|-------|-------|-------|-------|
| <input type="text"/> | _____ | _____ | _____ | _____ | _____ |
|----------------------|-------|-------|-------|-------|-------|

Regnestykker

Lag regnestykker der svaret blir dagens tall: